

Wie viel Geld bleibt übrig?

 hat 	Er kauft ein:  1 €  2 €	Es bleibt übrig: _____ €
---	---	--------------------------------





 hat 	Sie kauft ein:  4 €  1 €	Es bleibt übrig: _____ €
---	--	--------------------------------

 hat 	Er kauft ein:  1 €  3 €	Es bleibt übrig: _____ €
---	---	--------------------------------

Wie viel Geld bleibt übrig?

 <p>hat</p> 	<p>Er kauft ein:</p>  <p>23 €</p>  <p>16 €</p>	<p>Es bleibt übrig:</p> <p>_____ €</p>
--	--	--

 <p>hat</p> 	<p>Sie kauft ein:</p>  <p>37 €</p>  <p>48 €</p>	<p>Es bleibt übrig:</p> <p>_____ €</p>
---	---	--

 <p>hat</p> 	<p>Er kauft ein:</p>  <p>24 €</p>  <p>29 €</p>	<p>Es bleibt übrig:</p> <p>_____ €</p>
--	--	--